

ИНСТРУКЦИЯ ДЛЯ УЧАЩИХСЯ

Мы рады Вас приветствовать на олимпиаде «Учитель будущего».

Работа заочного тура состоит из пяти частей.

На выполнение работы отводится 90 минут.

Желаем успеха!

Часть 1. ЧЕЛОВЕК И ОБЩЕСТВО

Задание 1

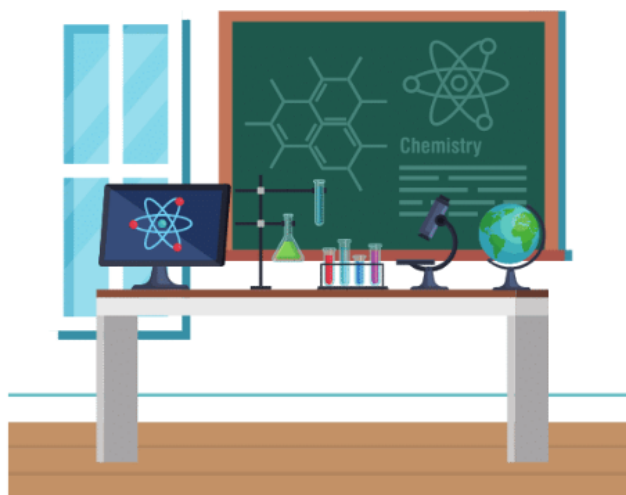
Установите соответствие между иллюстрациями и стадиями развития общества.

Ответ запишите в таблицу.

А. Традиционное общество 1



Б. Индустриальное общество 2



В. Информационное общество 3



А	Б	В

Ответ: (4 балла)

А	Б	В
3	1	2

Задание 2

В каком из приведенных ниже утверждений слово «Семья» употреблено в обществоведческом контексте?

Выберите один верный ответ.

1. Школа – наша вторая семья;
2. На празднике мы пили сок «Моя семья»;
3. Не только люди могут по-настоящему любить, крепкие семьи есть и среди животных;
4. В семье есть общий быт, взаимопомощь и взаимная ответственность.

Ответ: 4 (4 балла)

Задание 3.

Установите соответствие между рекламными слоганами и сферами общественных отношений.

Ответ запишите в таблицу.

Рекламные слоганы	Сферы общественных отношений
А. Будьте бдительны, водители. Почти все из вас - родители.	1. Экономическая
Б. Будьте финансово грамотными!	2. Политическая
В. Лучший подарок — это книга!	3. Духовная
Г. Голосуй или проиграешь	4. Социальная
Д. Будь современным - ходи в "Современник"	

А	Б	В	Г	Д

Ответ: (4 балла)

А	Б	В	Г	Д
4	1	3	2	3

Задание 4

Выберите верные суждения об отклоняющемся поведении.

Выберите все верные ответы.

1. Отклоняющееся поведение – это любое поведение, которое вызывает неодобрение общества.
2. Отклоняющееся поведение может быть только негативным.
3. Отклоняющееся поведение может иметь как коллективный, так и индивидуальный характер.
4. Отклоняющееся поведение не подразумевает нарушение общепринятых норм.
5. Отклоняющееся поведение может быть проявлением недостатков социализации индивида.

Ответ: 3 5 (4 балла)

Задание 5

Прочитайте приведённый ниже текст, в котором пропущен ряд слов. Выберите из предлагаемого списка слова, которые необходимо вставить на место пропусков.

Ответ запишите в таблицу.

В самом общем смысле (А)_____ – это направленная деятельность человека. Окружающий нас мир создан (Б)_____.

1. Услуги
2. Человек
3. Жизнь
4. Труд
5. Результат

А	Б

Ответ: (4 балла)

А	Б
4	2

Часть 2. ЭКОНОМИКА

Задание 1

Какое понятие зашифровано в иллюстрациях?

Выберите один верный ответ из списка понятий, предложенного ниже.

1)



2)



3)



4)



- 1) Ценные бумаги
- 2) Инвестирование
- 3) Страхование
- 4) Предпринимательство

Ответ: 4 (4 балла)

Задание 2

Прочитайте приведённый ниже текст, в котором пропущен ряд слов. Выберите из предлагаемого списка слова, которые необходимо вставить на место пропусков.

Ответ запишите в таблицу.

Инфляция – процесс (А) _____ общего уровня цен в стране, ведущий в итоге к (Б) _____ покупательной способности денег.

1) снижение

2) повышение

А	Б

Ответ: (4 балла)

А	Б
2	1

Задание 3

Установите соответствие между видами благ и примерами. *Ответы запишите в таблицу.*

Примеры	Виды благ
А) озеро Байкал	1) свободные блага
Б) нефть	2) экономические блага
В) нефтедобывающая установка	
Г) услуги врача	
Д) железнодорожный транспорт	
Е) кинотеатр	

А	Б	В	Г	Д	Е

Ответ: (4 балла)

А	Б	В	Г	Д	Е
----------	----------	----------	----------	----------	----------

1	1	2	2	2	2
---	---	---	---	---	---

Задание 4

Укажите факторы производства из перечисленных ниже вариантов.

Выберите все верные ответы.

1)	труд
2)	земля
3)	мудрость
4)	предпринимательские способности
5)	личные связи
6)	капитал

Ответ: 1 2 4 (4 балла)

Задание 5

Один из героев книги Н. Носова «Незнайка на Луне» Пончик Прилетел на Луну. Путешествуя по Луне, он нашёл соль. Жившие здесь коротышки. Даже не подозревали о том, как вкусна еда с солью. Все стали у Пончика покупать соль. Тогда он открыл фабрику по производству соли. Пончик сразу же установил очень высокую цену на свой товар. Торговля принесла ему большую прибыль. Видя всё это, коротышки тоже занялись продажей соли. У Пончика появились конкуренты, которые стали добывать очень много соли. Чтобы привлечь внимание покупателей, они очистили соль от грязи и установили цену на соль меньше, чем у Пончика. Соль у Пончика перестали покупать, и вскоре он разорился.

Какие выводы с точки зрения экономической науки можно выделить из сюжета данной сказки?

Установите верность каждого утверждения:

Утверждение	Верно	Неверно
В данной сказке проиллюстрировано действие такого неценового фактора спроса как вкусовые предпочтения потребителя		

В сказке рассматриваются разные виды страхования		
В событиях сказки конкуренция способствовала повышению качества продукции		

Ответ: (4 балла)


Утверждение	Верно	Неверно
В данной сказке проиллюстрировано действие такого неценового фактора спроса как вкусовые предпочтения потребителя	+	
В сказке рассматриваются разные виды страхования		+
В событиях сказки конкуренция способствовала повышению качества продукции	+	

Часть 3. СОЦИАЛЬНАЯ СФЕРА

Задание 1

Разгадайте ребус.

Из предложенных вариантов ответа выберите один верный ответ.



Варианты ответа:

1. Индивид
2. Молодежь
3. Молодожены
4. Межнациональный

Ответ: 1 (4 балла)

Задание 2

Ниже представлены иллюстрации, на которых изображены различные социальные группы. Определите иллюстрацию, на которой изображена демографическая социальная группа.

Выберите один верный ответ.



1. Подростки

2. Народности



3. Рабочие



4. Фермеры



Ответ: 1 (4 балла)

Задание 3

Какие высказывания из приведённых ниже могут быть использованы при объяснении темы «социальный статус»?

Выберите все верные ответы.

- 1) «Чины людьми даются, а люди могут обмануться». (А. Грибоедов)
- 2) «Для столкновения требуются двое». (Ф. Скотт Фицджеральд)
- 3) «Генерал – это ефрейтор, которого много раз повышали в звании». (Г. Лауб)
- 4) «Прогресс зависит от развития разделения труда». (М. Вебер)
- 5) «Конфликт — очень важная вещь. «Кошка села на подушку» — это не начало романа, а вот «кошка села на собачью подушку» — да» (Джон Ле Карре)

Ответ: 1 3 (4 балла)

Задание 4

Установите соответствие между социальными нормами и примерами, иллюстрирующими их.

Ответы запишите в таблицу.

Примеры	Социальные нормы
А) Каждый военнослужащий в рядах вооруженных сил принимает присягу.	1. Обычай
Б) Соседи считают Петю воспитанным мальчиком, потому что он всегда здоровается с ними и уступает места в транспорте.	2. Традиции
В) Папа Васи регулярно каждое утро совершает пробежку.	3. Этикет
Г) Бабушка на Пасху красит яйца и печёт куличи.	4. Привычка
Д) Каждый год ко дню рождения Ванечки, мама печёт пирог и приглашает гостей.	5. Ритуал

А	Б	В	Г	Д

Ответ: (4 балла)

А	Б	В	Г	Д
5	3	4	1	2

Задание 6

Восстановите правильную последовательность этапов изменения социального положения и социальных ролей человека.

Ответ запишите в виде последовательности цифр.

1. студент
2. аспирант
3. школьник
4. преподаватель университета
5. ректор

Ответ: 3 1 2 4 5 (4 балла)

Часть 4. ПОЛИТИКА

Задание 1

Перед вами описана жизнь одного государства в смайликах. Определите, какой тип политического режима у данного государства.

Выберите один верный ответ.



- 1) Демократический
- 2) Смешанный
- 3) Авторитарный
- 4) Тоталитарный

Ответ: 4 (4 балла)

Задание 2

Определите иллюстрацию, которая демонстрирует признаки монархии.

Выберите один верный ответ.





Ответ: 2 (4 балла)

Задание 3

Установите соответствие между признаками и формами правления.

Ответ запишите в таблицу.

	Признаки		Формы правления
<i>А</i>	Проводится регулярно	<i>1</i>	<i>Референдум</i>
<i>Б</i>	Одобрение или неодобрение гражданами какого-либо решения	<i>2</i>	<i>Выборы</i>
<i>В</i>	Голосование за кандидатов на государственные должности	<i>3</i>	<i>Общее для референдума и выборов</i>
<i>Г</i>	Правом голоса обладают только совершеннолетние граждане		
<i>Д</i>	Является формой демократии		
<i>Е</i>	Тайное голосование		

А	Б	В	Г	Д	Е

Ответ: (4 балла)

А	Б	В	Г	Д	Е
2	1	2	3	2	3

Задание 4

Перед вами названия палат парламентов разных государств. Как называется одна из палат парламента Российской Федерации?

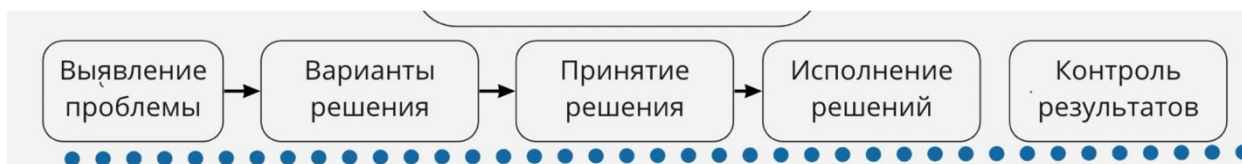
Выберите один верный ответ.

1. Палата общин
2. Государственная дума
3. Национальное собрание
4. Палата депутатов

Ответ: 2 (4 балла)

Задание 5

Перед вами таблица, расставьте ответы в правильном порядке.



1. Жители города Z вышли на митинг против застройки местного парка
2. В муниципальной газете вышла статья о эффективной борьбе муниципальных депутатов «За право на зеленый город»
3. Муниципальные депутаты из числа активных граждан создали согласительную комиссию
4. Кампания «ПИК» перенесла строительство новой новостройки вне черты города

5. Мэрия города Z вынесла специальный указ по вопросам градостроительства

Ответ: 1 3 5 4 2 (4 балла)

Часть 5. ПРАВО

Задание 1

1. Студентка Кукушкина ехала на учебу в метро и слушала в наушниках любимые музыкальные композиции. Вокруг было много пассажиров, кто-то ее толкнул, но она не обратила внимания. На выходе из метро Кукушкина не нашла в сумочке кошелек с 10 000 рублей. В связи с чем она пришла в полицию с заявлением о преступлении, однако получила настоятельный совет от сотрудника полиции не подавать заявление, поскольку кошелек уже не найти, а ей придется долго давать объяснения о случившемся.

Прав ли сотрудник полиции?

Выберите один верный ответ.

1. Да, сотрудник полиции прав;
2. Частично прав, поскольку все-таки возможно найти кошелек в ходе оперативно-розыскных мероприятий;
3. Нет, не прав, поскольку отказ в приеме сообщения о преступлении недопустим;
4. Нет, не прав, поскольку должен был дать письменную инструкцию по данному вопросу.

Ответ: 3 (4 балла)

Задание 2

В состав какого субъекта Российской Федерации входит г. Москва.

Выберите один верный ответ.

1. Московская область
2. Центральный федеральный округ
3. Город федерального значения Москва
4. Московский федеральный округ

Ответ: 3 (4 балла)

Задание 3

Запишите слово (словосочетание), пропущенное в таблице.

ПРАВОВОЙ СТАТУС	ХАРАКТЕРИСТИКА
-----------------	----------------

.....	Способность иметь юридические права
Дееспособность	Способность своими действиями приобретать и осуществлять юридические права, создавать для себя юридические обязанности и исполнять их

Ответ: Правоспособность (4 балла)

Задание 4

Какие условия необходимо соблюсти, чтобы заключить брак?

Выберите все верные ответы.

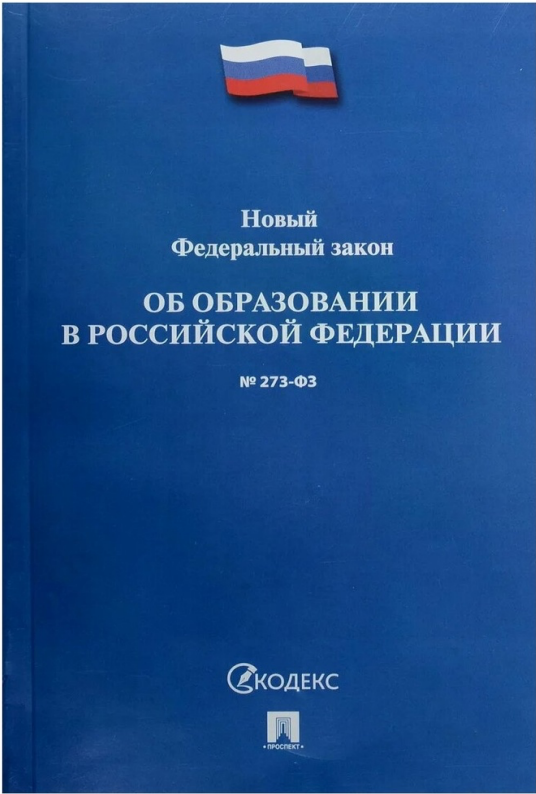


1. получить разрешение родителей в письменном виде
2. не состоять в другом браке
3. достигнуть возраста шестнадцати лет
4. дать добровольное согласие на вступление в брак
5. быть дееспособным
6. иметь среднее общее образования

Ответ: 2 4 5 (4 балла)

Задание 5

Установите соответствие между источниками (формами) права и иллюстрациями.

Ответ запишите в таблицу.

А.	Нормативный правовой акт	1	
Б.	Нормативный договор	2	
В.	Судебный (юридический) прецедент	3	

А	Б	В

Ответ: (4 балла)

A	Б	В